

ZŠ a MŠ Vanovice, okres Blansko, příspěvková organizace



Geometrické tvary


OP VK EU Peníze školám

vzdělávací oblast: Využití ICT

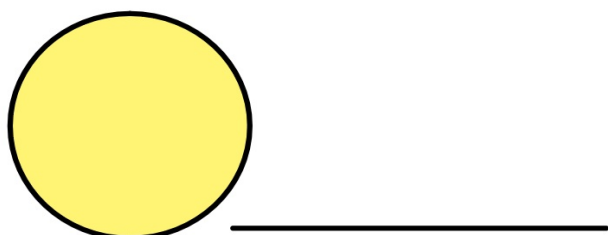

název předváděcího sešitu:

OPVK – EU (III/2 – M)

(Mgr. Lucie Klevetová, matematika / 4. ročník, 2. pomůcka)



1. Pojmenuj správně geometrické tvary:



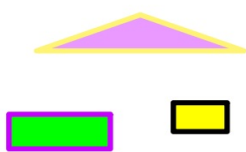


2. Pomocí "tvarů" a "výplně" udělej na této stránce:

- 3 malé **modré** kruhy
- 2 velké **zelené** čtverce
- 1 velký **červený** obdélník
- 4 malé **oranžové** trojúhelníky
- 3 velké **žluté** čtverce
- 4 malé **fialové** obdélníky
- 1 velký **růžový** kruh

3. Zařad' správně geometrické tvary z nabídky:

trojúhelníky	čtverce	obdélníky	kruhy



4. Zařad' správně:

čtverec	obdélník	kruh	trojúhelník

