


ZŠ a MŠ Vanovice, okres Blansko, příspěvková organizace



Geometrie



OP VK EU Peníze školám

vzdělávací oblast: Využití ICT

název předváděcího sešitu:

OPVK – EU (III/2 – M)

(Mgr. Lucie Klevetová, matematika / 4. ročník, 5. pomůcka)

×

1. Spoj body A , B , C , D úsečkami. Narýsuj jich co nejvíce:

$A \times$

$\times B$

$C \times$

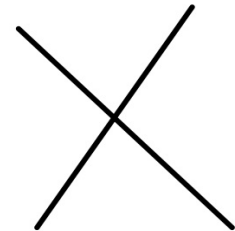
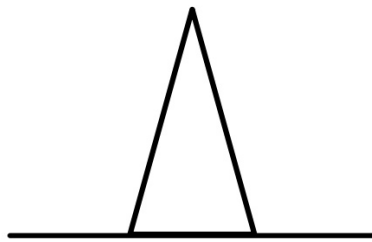
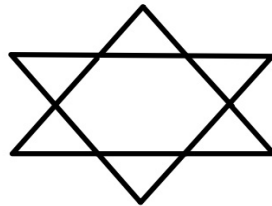
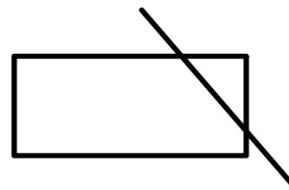
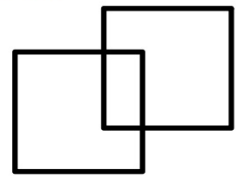
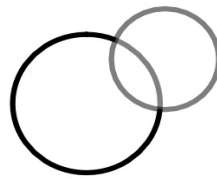
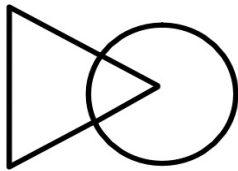
$\times D$

Kolik úseček lze sestrojít?

2. Ve čtvercové síti vyznač:

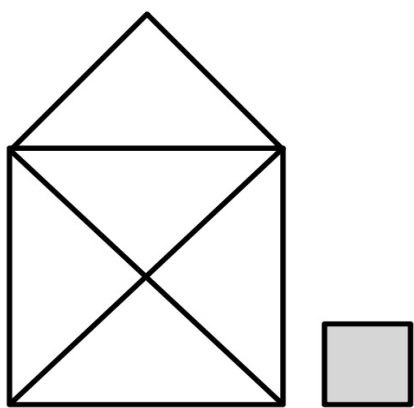
3 malé **zelené** čtverce, 2 velké **modré** obdélníky, 1 velký **červený** trojúhelník, 5 libovolných úseček, 4 body, 1 velký **hnědý** čtverec a 2 malé **žluté** obdélníky.

3. Vybarvi pomocí fixy průniky geometrických tvarů:

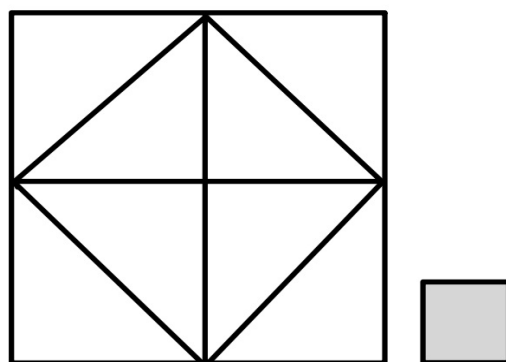


4. Kolik je na obrázku trojúhelníků?

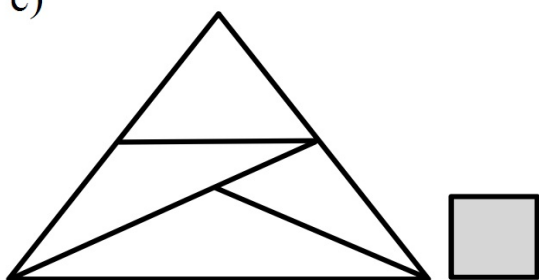
a)



b)



c)



d)

