

ZŠ a MŠ Vanovice, okres Blansko, příspěvková organizace



## Netradiční matematické úkoly

OP VK EU Peníze školám

vzdělávací oblast: Využití ICT

název předváděcího sešitu:

OPVK – EU (III/2 – M)

(Mgr. Lucie Klevetová, matematika / 4. ročník, 10. pomůcka)

**1. Kolik trojčiferných čísel napíšeš pomocí cifer 1, 2, 5, můžeš-li použít každou z nich jen jednou?**

---

---

---

---

---

**2. Napiš co nejvíce trojčiferných čísel pomocí cifer 3, 6, 9:**

---

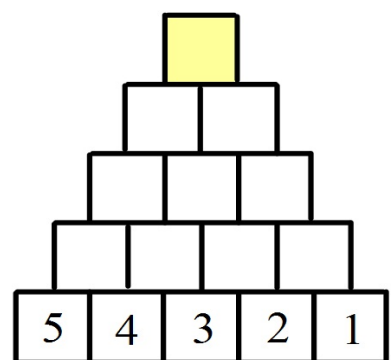
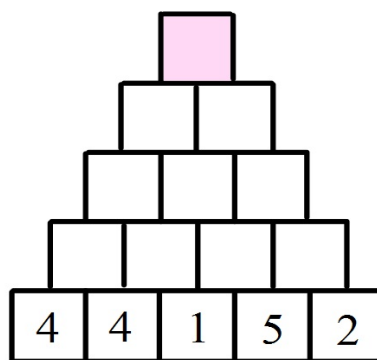
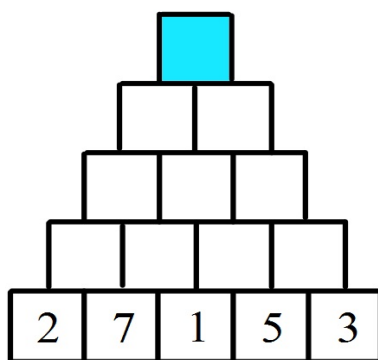
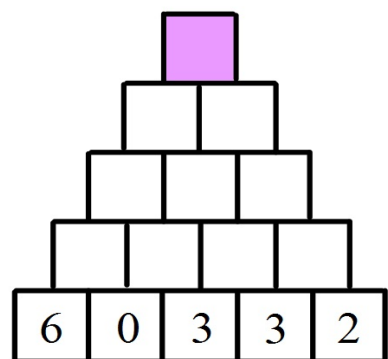
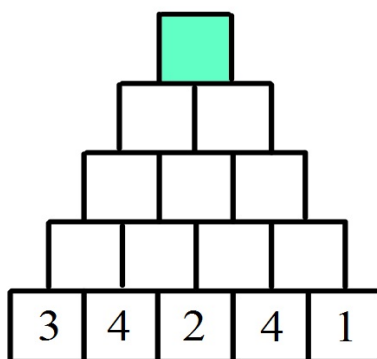
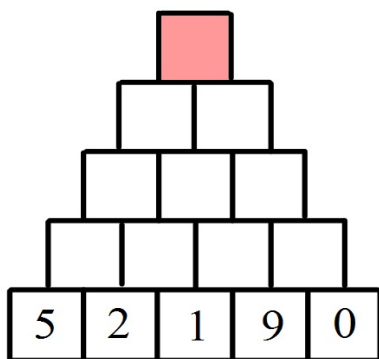
---

---




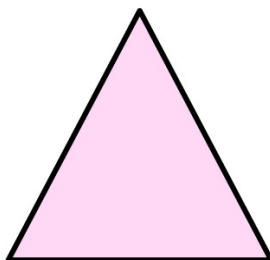
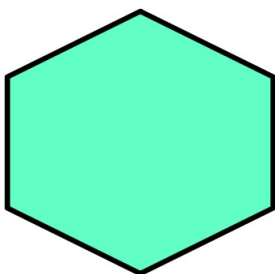
---

---

### 3. Vypočítej pyramidy sčítáním:



**4. Rozdělíš jedním řezem útvary na dvě shodné části?  
Kde lze provést více způsobů, proved'**



**5. Najdi nejmenší a největší čtyřciferné číslo zapsané pomocí daných číslic:**

3, 6, 1, 8

4, 4, 3, 2

8, 8, 2, 2

1, 9, 6, 0

5, 5, 1, 3

9, 9, 1, 1