


ZŠ a MŠ Vanovice, okres Blansko, příspěvková organizace



## Matematické hlavolamy




OP VK EU Peníze školám

vzdělávací oblast: Využití ICT


název předváděcího sešitu:

OPVK – EU (III/2 – M)



(Mgr. Lucie Klevetová, matematika / 4. ročník, 19. pomůcka)

**1. Najdi a zakroužkuj symbol, který chybí v některé ze čtyř částí:**



**2. Dopln mezi nasledující čísla  
nejrůznější matematická  
znaménka tak, aby platil výsledek:**

$$2 \quad 2 \quad 2 = 6$$

$$3 \quad 3 \quad 3 = 6$$

$$5 \quad 5 \quad 5 = 6$$

$$6 \quad 6 \quad 6 = 6$$

$$7 \quad 7 \quad 7 = 6$$

**3. Dokážeš dosadit čísla  
místo otazníků?**

2, 4, 6, 8, 10, ?


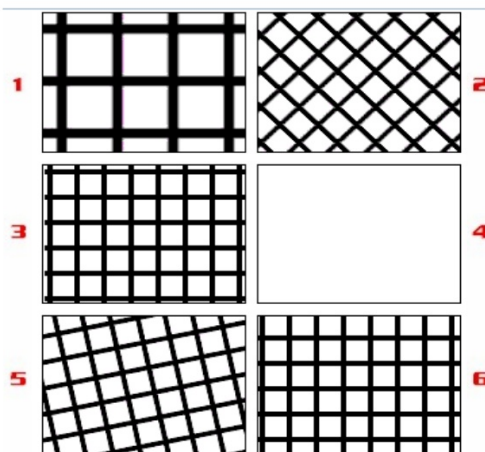

3, 10, 17, 24, ?

2, 4, 8, 16, ?


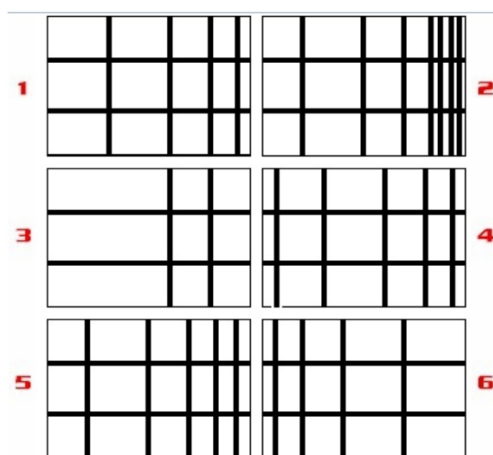
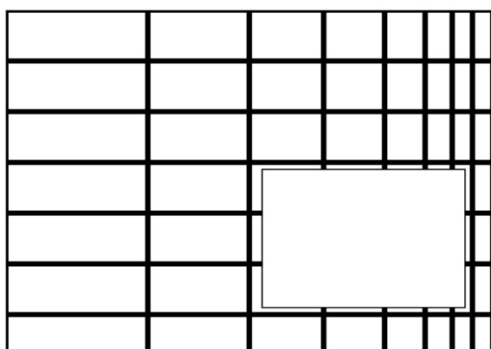
1, 2, 4, 8, ?

50, 47, 44, 41, ?


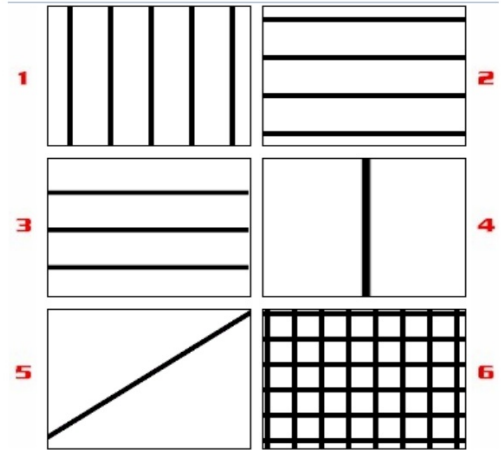
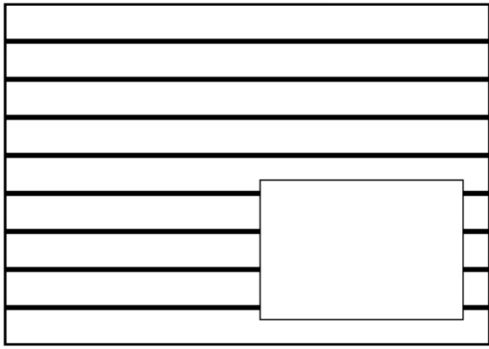
4. Do červeného rámečku napiš číslo obrázku, který bude patřit do vynechaného místa:



## 5. Podobné úkoly:



6.



7.

