



evropský
sociální
fond v ČR



EVROPSKÁ UNIE



MINISTERSTVO ŠKOLSTVÍ,
MLÁDEŽE A TĚLOVÝCHOVY



OP Vzdelávání
pro konkurenceschopnost

INVESTICE DO ROZVOJE VZDĚLÁVÁNÍ

OP VK EU Peníze školám

vzdělávací oblast: Využití ICT

název předváděcího sešitu:

OPVK – EU (III/2 – M)

(Jana Cikánková, matematika / násobení a dělení, 2. ročník, 10. pomůcka)

NÁSOBENÍ A DĚLENÍ DO PĚTI

1. Vybarvi čtverečky

ZELENĚ $2 \times 5 =$


MODŘE $1 \times 5 =$

ŽLUTĚ $4 \times 5 =$

ČERVENĚ $3 \times 5 =$


2. Sluníčko a rovnici vybarvi podle zadání

= 0, 1, 2




ZELENĚ

= 3, 4



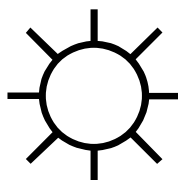
MODŘE

= 5, 6




ČERNĚ

= 7, 8



HNĚDĚ

= 9, 10



ČERVENĚ

$21 : 3 =$	$40 : 4 =$	$25 : 5 =$	$45 : 5 =$	$50 : 5 =$
$14 : 7 =$	$40 : 10 =$	$8 : 2 =$	$14 : 2 =$	$6 : 3 =$
$2 : 2 =$	$9 : 3 =$	$12 : 2 =$	$24 : 3 =$	$15 : 3 =$

3. Vypočítej slovní úlohy:

Terežka slavila narozeniny. Na oslavu si pozvala 3 kamarádky a 2 kamarády. Připravila si 15 chlebíčků. Kolik dostane každý chlebíčků? Příklad si znázorni a vypočítej.

--	--	--	--	--	--	--	--	--	--	--	--	--	--	--

Odpověď: _____

V pekárně upekli 50 rohlíků. Přišlo 10 zákazníků. Kolik rohlíků si každý koupil, když pekaři žádný rohlík nezbyl.

Příklad znázorni a vypočítej.

Odpověď: _____