



OP VK EU Peníze školám

vzdělávací oblast: Využití ICT

název předváděcího sešitu:

OPVK – EU (III/2)

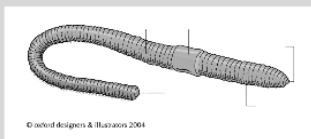
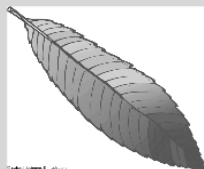
(Jana Cikánková, prvouka, 3. ročník, 1. pomůcka)



PRVOUKA PRO 3. ROČNÍK

KRAJINA KOLEM NÁS

1. URČI SVĚTOVÉ STRANY U TĚCHTO OBRÁZKŮ



A _____



1.Spoj obrázek se světovou stranou

Západ


Sever

Východ

Jih



© Oxford designers & Illustrators 2004



Na kterou světovou stranu pojeděš, když pojeděš do těchto měst:

(Můžeš použít mapu ČR)

BRNO



OSTRAVA



PRAHA



JEVÍČKO



OLOMOUC



VELKÉ OPATOVICE



BOSKOVICE



ZNOJMO

